
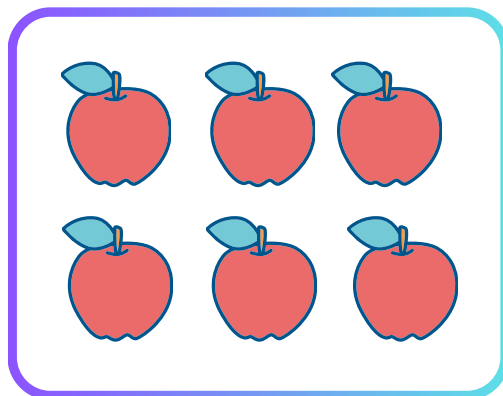






Nombre _____

Más y Menos

Instrucciones: Colorea las frutas de la columna de la derecha. Si hay más frutas en la columna de la derecha que en la de la izquierda, pínalas de rojo. Si hay menos frutas en la columna de la derecha que en la de la izquierda, pínalas de azul.



Nombre _____

Mayor y menor que

completa con los signos mayor y menor que, según corresponda.

8	<	10	<input type="text"/>	<input type="text"/>
---	---	----	----------------------	----------------------

<input type="text"/>	<input type="text"/>	<input type="text"/>	<input type="text"/>	<input type="text"/>
----------------------	----------------------	----------------------	----------------------	----------------------

<input type="text"/>	<input type="text"/>	<input type="text"/>	<input type="text"/>	<input type="text"/>
----------------------	----------------------	----------------------	----------------------	----------------------

<input type="text"/>	<input type="text"/>	<input type="text"/>	<input type="text"/>	<input type="text"/>
----------------------	----------------------	----------------------	----------------------	----------------------

<input type="text"/>	<input type="text"/>	<input type="text"/>	<input type="text"/>	<input type="text"/>
----------------------	----------------------	----------------------	----------------------	----------------------

<input type="text"/>	<input type="text"/>	<input type="text"/>	<input type="text"/>	<input type="text"/>
----------------------	----------------------	----------------------	----------------------	----------------------

Nombre _____

Mayor o menor

Compara los números y escribe $<$, $>$ o $=$

10 ○ 8

1 ○ 10

6 ○ 7

3 ○ 3

5 ○ 5

0 ○ 8

3 ○ 9

7 ○ 9

4 ○ 2

6 ○ 4

Nombre _____

Colorea todos los números mayores que 5

1	25	18	21	3
22	7	12	9	23
11	8	13	14	17
10	15	5	19	20
4	6	16	24	2

Nombre _____


Colorea todos los números menores que 15

14	25	18	21	3
22	7	12	20	23
11	8	13	1	17
10	15	5	19	9
4	6	16	24	2


Nombre _____

De menor a mayor

1) Observa los precios de los juguetes y ordena del más barato al más caro.




S/ 6.00



S/5.00



S/3.00



S/8.00



S/2.00

.....

.....

2) Completa las oraciones.

• El juguete más barato es:

• El juguete más caro es: